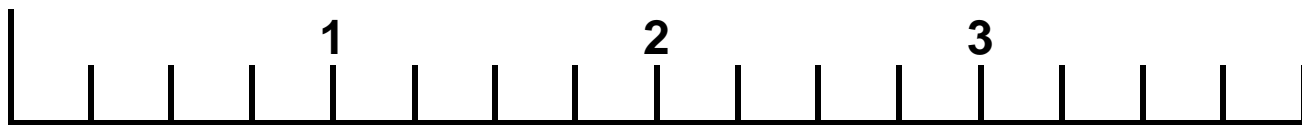


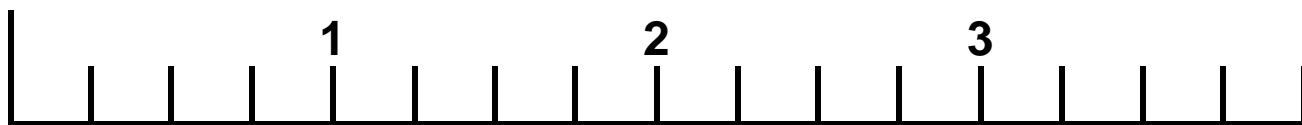
Place sur la droite graduée les fractions suivantes :

$$\frac{1}{2} ; \frac{1}{4} ; \frac{5}{2} ; \frac{9}{4} ; \frac{7}{2} ; \frac{6}{3}$$



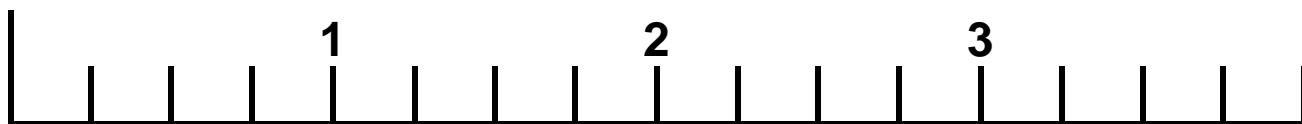
Place sur la droite graduée les fractions suivantes :

$$\frac{1}{2} ; \frac{1}{4} ; \frac{5}{2} ; \frac{9}{4} ; \frac{7}{2} ; \frac{6}{3}$$



Place sur la droite graduée les fractions suivantes :

$$\frac{1}{2} ; \frac{1}{4} ; \frac{5}{2} ; \frac{9}{4} ; \frac{7}{2} ; \frac{6}{3}$$



Place sur la droite graduée les fractions suivantes :

$$\frac{1}{2} ; \frac{1}{4} ; \frac{5}{2} ; \frac{9}{4} ; \frac{7}{2} ; \frac{6}{3}$$

